

राज्य स्तरीय आकलन

PA 1

सत्र – 2019–20

कक्षा—पहली

विषय –गणित

माध्यम –हिन्दी

PAPER CODE :

1	0	3	1
---	---	---	---

समय : 1 घंटे

पूर्णांक :

1	0
---	---

STUDENT ID : 

--	--	--	--	--	--	--	--	--	--

केन्द्राध्यक्ष :

हस्ताक्षर :

हस्ताक्षर एवंसील :

वीक्षक :

दिनांक :

दिनांक :

निर्देश :

1. कुल 5 (पांच ) प्रश्न हल करना है ।
2. प्रत्येक भाग से एक प्रश्न हल करना अनिवार्य है।
3. प्रत्येक प्रश्न के लिए 2 अंक निर्धारित है।

भाग—1

# लुढ़कने वाली वस्तु पर सही का निशान लगाओ -

1




खाट  
(चारपाई)

2



गमला

3



किताब

4



सीढ़ी

Skill- NA

# लुढ़कने वाली वस्तु पर सही का निशान लगाओ -

1



2



3



4



Skill- NA

लुड़कने वाली वस्तु पर सही का चिन्ह लगाओ -

1



2



3



4



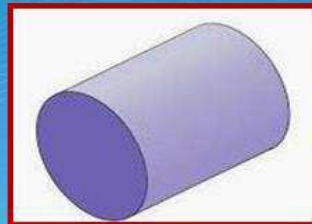
Skill- NA

लुड़कने वाली वस्तु पर सही का चिन्ह लगाओ -

1




2



3



4



Skill- NA

लुड़कने वाली वस्तु पर सही का चिन्ह लगाओ -

1



2



3



4



[www.DesktopBackground.org](http://www.DesktopBackground.org)

Skill- NA

भाग-2

रसोई के अंदर मिलने वाली वस्तु पर सही का चिन्ह लगाओ -

1



क्रिकेट बैट

2



कढ़ाई

3



ब्लैकबोर्ड

4



सुई सीरिंज

Skill- NA

स्कूल के अंदर मिलने वाली वस्तु पर सही का चिन्ह लगाओ -

1



सुई सीरिंज

2



कढ़ाई

3



ब्लैकबोर्ड

4



बोरिंग

Skill- NA



घर के अंदर मिलने वाली वस्तु पर सही का चिन्ह लगाओ

<p>1</p>  <p>बोरिंग</p>	<p>2</p>  <p>कुआँ</p>
<p>3</p>  <p>पेड़</p>	<p>4</p>  <p>कुर्सी</p>

Skill- NA


स्कूल के अंदर मिलने वाली वस्तु पर सही का चिन्ह लगाओ -

<p>1</p>  <p>पुस्तक</p>	<p>2</p>  <p>बोरिंग</p>
<p>3</p>  <p>कढ़ाई</p>	<p>4</p>  <p>पेड़</p>

Skill- NA

स्कूल के अंदर मिलने वाली वस्तु पर सही का चिन्ह लगाओ

1



2



3




4



www.DoktorBackgrounds.com

Skill- NA

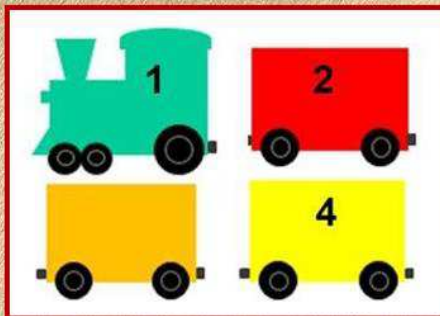
भाग-3



छूटी हुई संख्या होगी-

- 1 5
- 2 7
- 3 11
- 4 1

Skill- NA



छूटी हुई संख्या होगी-

- 1 6
- 2 7
- 3 3
- 4 5

Skill- NA




छूटी हुई संख्या होगी-

1 4

2 6

3 8

4 7



Skill- NA

छूटी हुई संख्या होगी-

1 5

2 4


3 8

4 11

6, 7,  9, 10

Skill- NA

छुटी हुई संख्या होगी-



- 1 6
- 2 2
- 3 7
- 4 9

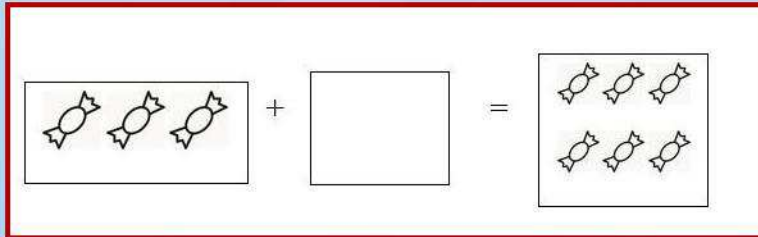
खाली जगह में कितने  
वस्तुएँ होंगी?

1 3

2 4

3 5

4 6



Skill- NA

खाली जगह में कितने  
वस्तुएँ होंगी?

1 7

2 9

3 6

4 5



Skill- NA


खाली जगह में कितने  
वस्तुएँ होंगी?

1 1

2 3

3 4

4 2



Skill- NA

खाली जगह में कितने  
वस्तुएँ होंगी?

1 7

2 9

3 8

4 10



Skill- NA



खाली जगह में कितने  
वस्तुएँ होंगी?

- 1 9
- 2 5
- 3 10
- 4 7



Skill- NA

डिब्बे में कौन-सी संख्या आएगा ?

$$\begin{array}{r} 1 \\ + 8 \\ \hline \square \end{array}$$

1 7

2 8

3 9

4 10

Skill- NA

डिब्बे में कौन-सी संख्या आएगा ?

$$\begin{array}{r} 3 \\ + 6 \\ \hline \square \end{array}$$

1 6

2 8

3 9

4 7

Skill- NA

डिब्बे में कौन-सी संख्या आएगा ?

$$\begin{array}{r} 2 \\ + 8 \\ \hline \end{array}$$

1 10

2 7

3 9

4 8

Skill- NA

डिब्बे में कौन-सी संख्या आएगा ?

$$\begin{array}{r} 10 \\ - 4 \\ \hline \end{array}$$

1 3

2 6

3 9

4 5

Skill- NA



डिब्बे में कौन-सी संख्या आएगा ?

8

— 3

1 4

2 2

3 6

4 5